

五. 請將下列曲調改寫成簡譜 10%




藏族民歌


簡譜: _____

六.

1) 請寫出下列曲調的調名與轉調地方的調名 8%





2) 請問下列旋律為五聲音階中的何種調式 2%




5. ()

七. 選擇題 15%

1. ()  (1) 連音 (2) 震音 (3) 琶音 (4) 迴音

2. ()  (1) 倚音 (2) 迴音 (3) 連音 (4) 震音

3. ()  (1) 震音 (2) 琶音 (3) 倚音 (4) 連音

4. () 請選出正確的演奏法?



5. () 請問下列哪一個術語是反覆記號? (1) sf (2) D. S. (3) dim. (4) rit.